

13. temats **Pilskalni - zemju centri**

13.1.

Apgūstot šo tematu, tu izpētīsi pilskalnu veidus un
nozīmi dzelzs laikmeta sabiedrības sadzīvē

Apgūsti pilskalnu

- pazīmes
- tipoloģiju

Daugmales pilskalns

IK MĀRAVOTI

Pauļuka zīm., LNVM

Darblapas veidoja

IK Māravoti CFLA Digitālo mācību līdzekļu ESF projekta
"Vēstures pētniecība arheologu metodēm" darba grupa Mg. paed. Ernesta Svikļa vadībā;
vēstures konsultants, zīmējumu autors Mg. hist. Normunds Jērums, dizaina autore Solvita Lodiņa,
izmantoti Latvijas Nacionālā vēstures muzeja materiāli,
"Latvijas arheoloģijas rokasgrāmata", 2021., R. Zinātne, www.enciklopedija.lv

2021

Pilskalni - pilenes bronzas laikmetā



Uzraksti, kāda bija pileņu funkcija bronzas laikmeta sabiedrībā!

Izpēti 5.-8.gs. Latvijas teritorijas vidējā dzelzs laikmeta pilis, ezerpilis un pilskalns ar apmetni!

13.3.

Āraišu ezerpilis

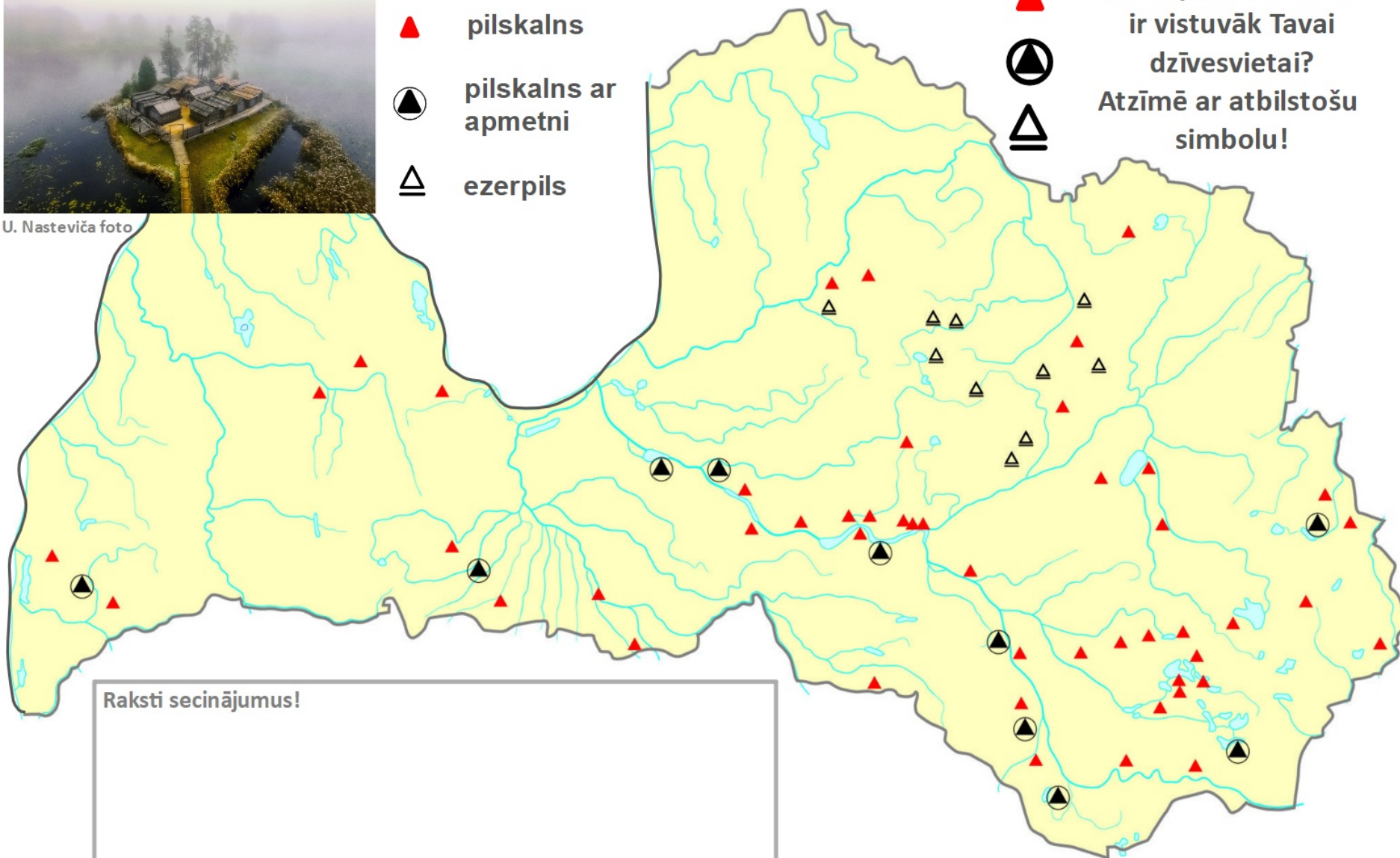


U. Nasteviča foto

- ▲ pilskalns
- ⊗ pilskalns ar apmetni
- △ ezerpilis



Kura apdzīvotā vieta
ir vistuvāk Tavai
dzīvesvietai?
Atzīmē ar atbilstošu
simbolu!



Raksti secinājumus!

Skaties filmu "Pilskalnu pazīmes un funkcijas"
un nosaki doto 6 pilskalnu tipu!

13.4.



Adolfa Stubava pilskalnu tipoloģija

Atbildes




	A	B	C	D	E
1					
2					
3					
4					
5					

Nocietinājumu veidi



galvenā aizsarglīnija



sānu aizsarglīnijas,
terase, papildvaļņi



apakšējā aizsarglīnija

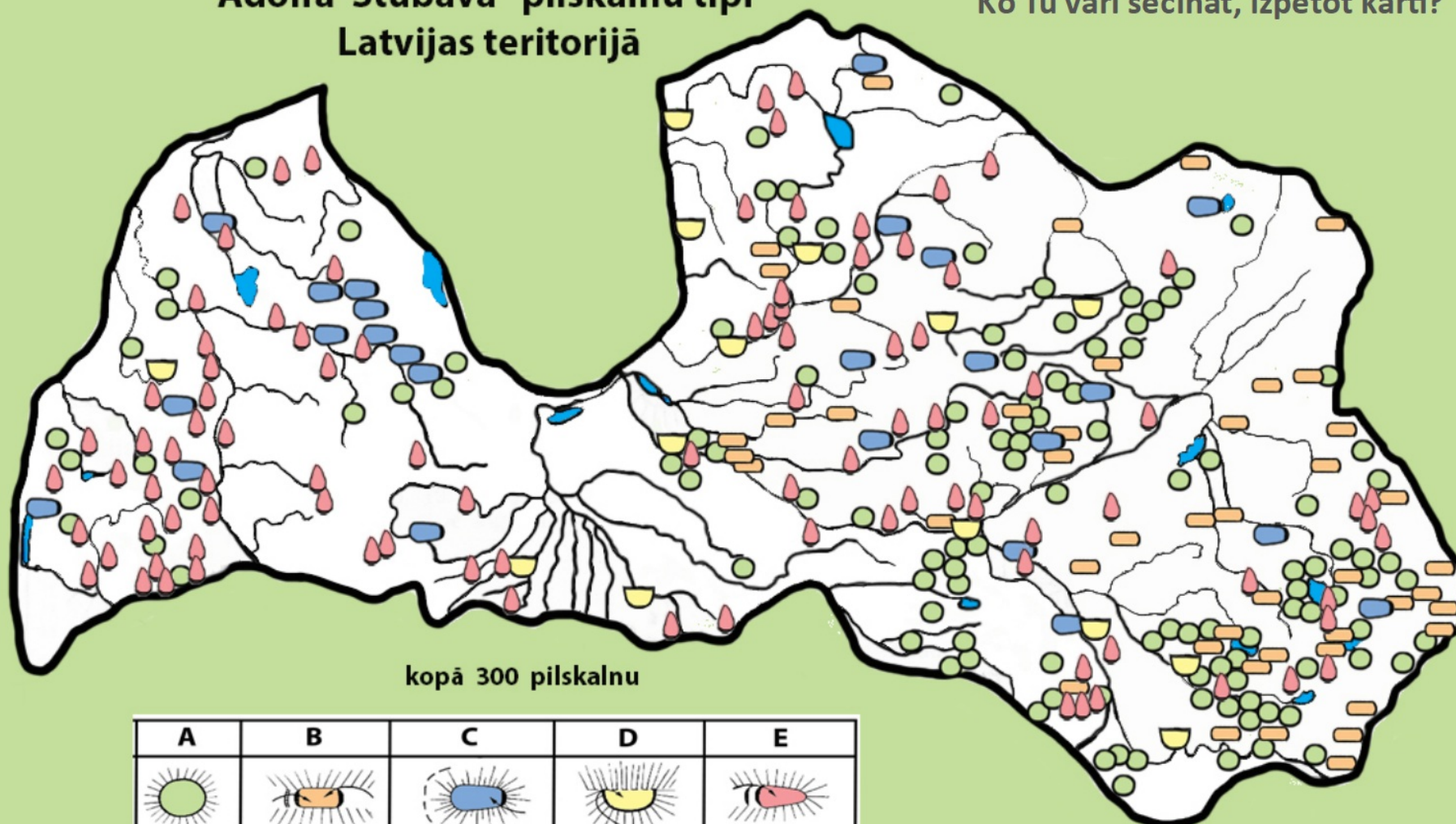


aizmugures aizsarglīnija

1. Asotes pilskalns		4. Jersikas pilskalns	
2. Ķoderu pilskalns		5. Talsu pilskalns	
3. Sabiles pilskalns		6. Satezeles pilskalns	

Adolfa Stubava pilskalnu tipi Latvijas teritorijā

Ko Tu vari secināt, izpētot karti?



A	B	C	D	E
119	46	25	14	96

S. Lodiņas zīm.
pēc "Arheoloģija un etnogrāfija XI" R. 1974.g.

Izpēti 1.-4.gs.
 Agrā dzelzs laikmeta karti!
 1. Ko Tu vari secināt par
 Latvijas teritoriju
 apdzīvojošām tautām?
 2. Kādas ir viņu kultūras
 pazīmes?



<https://enciklopedija.lv/skirklis/4946> - kartes avots

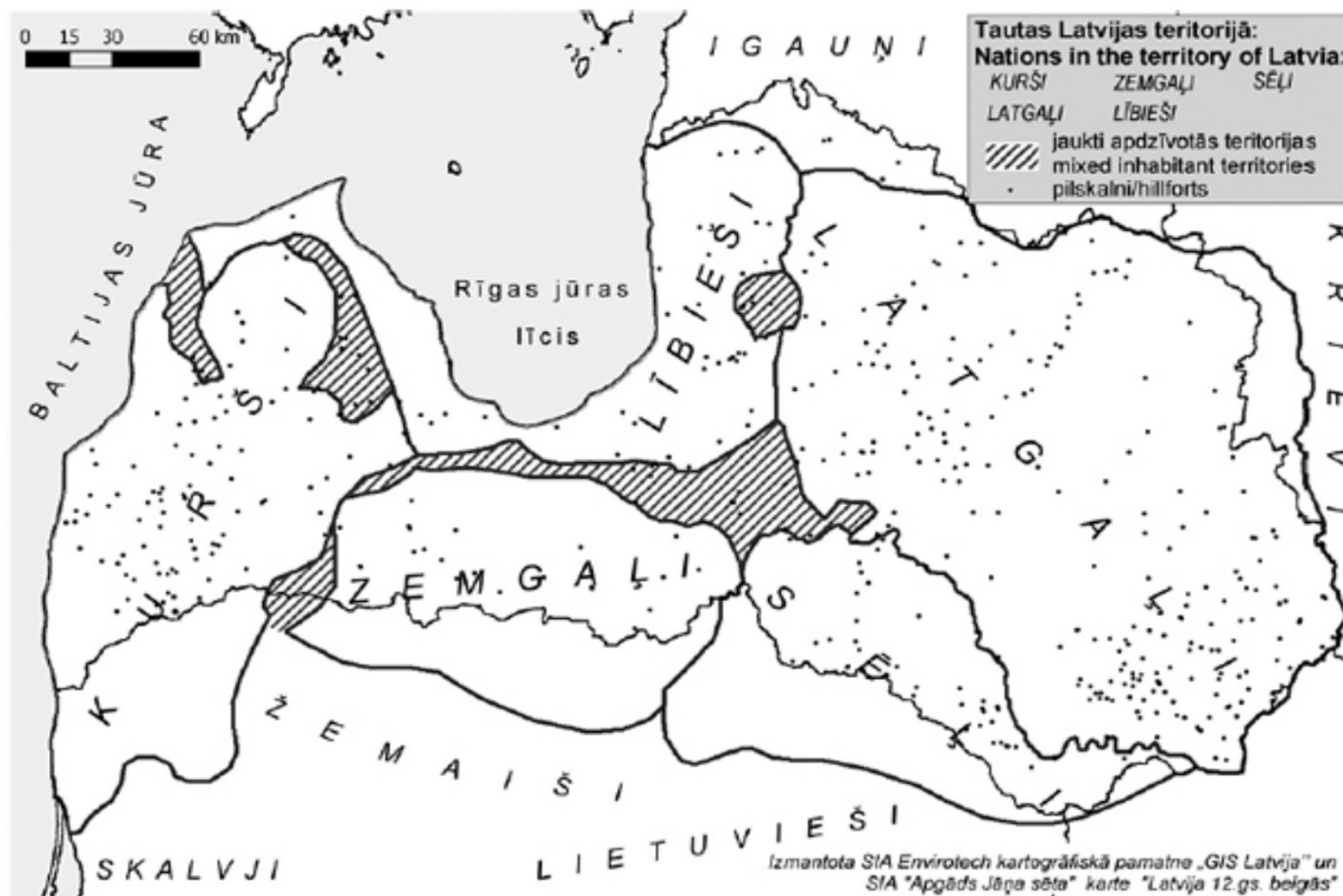
Izpēti Agrā un Vidējā dzelzs laikmeta kartes un salīdzini! Kas ir mainījies iedzīvotāju apdzīvotībā?

Lai pārbaudītu sevi, velc pelēkajā laukumā paslēpto tekstu uz oranžo laukumu!



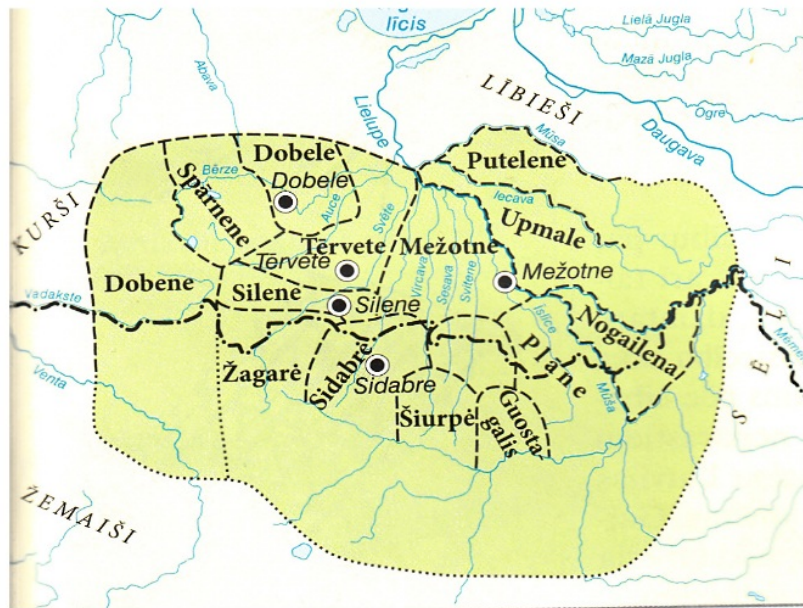
Ar marķieri izkrāso 12.gs.beigās Latvijā dzīvojošo tautu teritorijas!

13.8.



Nosaki sentautu, kuras pilskalni redzami kartēs!

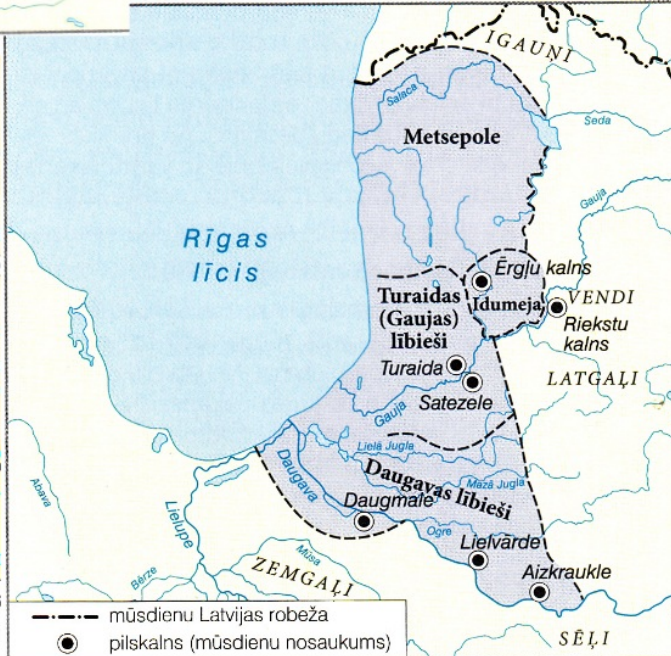
13.9.



Atzīmē lielākos zemju centrus!



Velc kopiju!



--- mūsdienu Latvijas robeža
● pilskalns (mūsdienu nosaukums)

--- mūsdienu Latvijas robeža
● pilskalns (mūsdienu nosaukums)

--- mūsdienu Latvijas robeža
● pilskalns (mūsdienu nosaukums)

Savienošanai
ņem šo rīku!



Savieno pilskalna nosaukumu ar attēlu!



Tērvetes
pilskalns

Jersikas
pilskalns

Daugmales
pilskalns

Mežotnes
pilskalns

Asotes
pilskalns

Āraišu
ezerpils

Pārbaudi sevi!
Nocel vai izgaisini
bildes!



13.10.



**Novērtē savas iegūtās zināšanas un izpratni
13. tematā "Pilskalni - zemju centri"!**

Noformulē 3 jautājumus par
pilskalnu pazīmēm un funkcijām!

1.

2.

3.

PAŠVĒRTĒJUMS

Tematu izpratu!

Tematu izpratu daļēji!

Tematu izpratu vāji!



Velc
kopiju!



Velc
kopiju!

