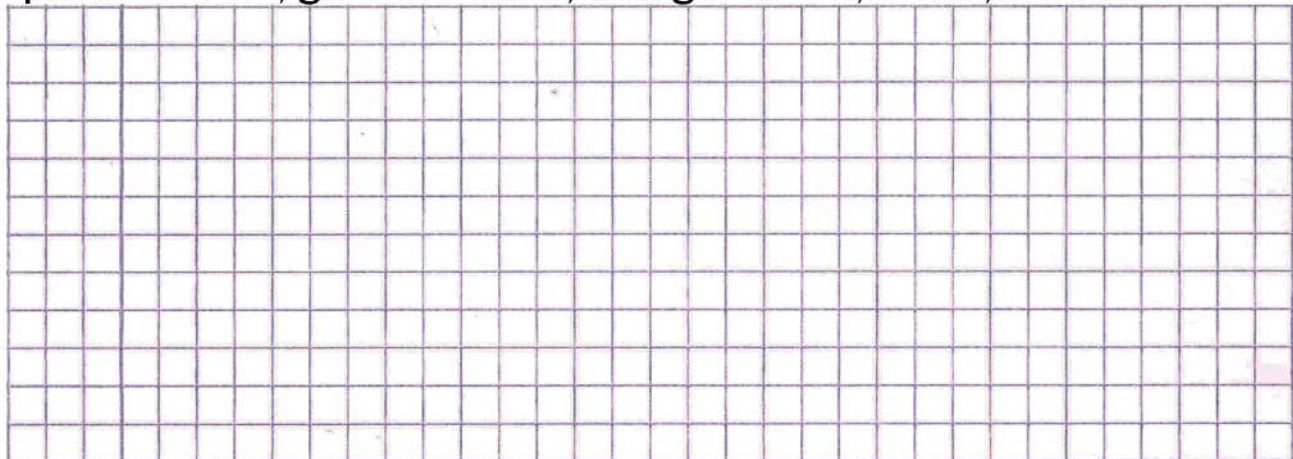


# 1.uzdevums




**Cik daudz m<sup>3</sup> zemes pētnieki izraks no arheoloģisko izrakumu laukuma?**

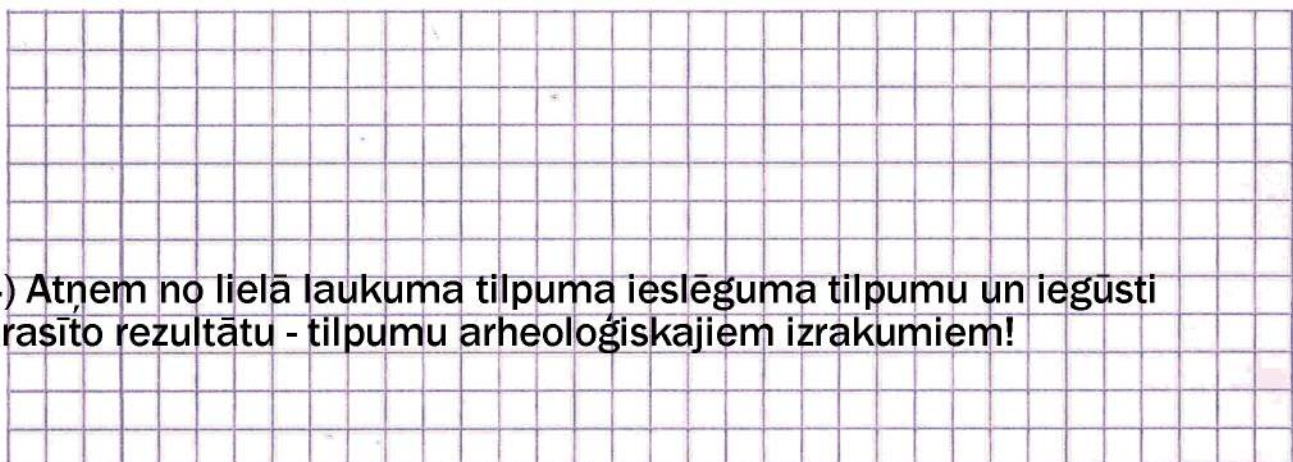
- 1) Uzzīmē izrakumu laukuma plānu mērogā 1:100, ja tā izmēri ir: platums - 2 m, garums - 10 m, ieslēgums\* - 0,5m x1,5 m stūri.



- 2) Uzzīmē arheoloģisko izrakumu telpisku laukumu un aprēķini tilpumu m<sup>3</sup> pēc formulas:  $a \times b \times c$ ; a-platums 2m; b-garums 10m; c- dziļums 0,5m



- 3) Uzzīmē ieslēguma telpisko laukumu un aprēķini tā tilpumu m<sup>3</sup>!



- 4) Atņem no lielā laukuma tilpuma ieslēguma tilpumu un iegūsti prasīto rezultātu - tilpumu arheoloģiskajiem izrakumiem!

\* ieslēgums - šo vietu nav iespējams izrakt, jo traucē koku saknes